

ЗРАЗОК КОНКУРСНОГО ВИПРОБУВАННЯ З МАТЕМАТИКИ
ДЛЯ ВСТУПУ до 5-го класу Ліцею №34 імені Віктора Максименка Польського району м.Києва на 2025-2026 н.р.


ШИФР _____

Дата _____

I варіант


1. Знайди значення виразу - 2б.

$$66456 : 8 - 203 \cdot 97 =$$




2. Виконай арифметичні дії з іменованими числами 3б.

$$17 \text{ м } 23 \text{ см} \cdot 4 \qquad 3 \text{ т } 24 \text{ кг} : 12 \text{ кг}$$




3. Розв'яжи рівняння - 2б

$$(X \cdot 6) + 74 = 200$$



4. Розв'яжи задачу - 2б.

Знайди периметр та площу ділянки прямокутної форми з довжиною 27 м та шириною 15 м .



5. Розв'яжи задачу. - 3б

Маса пляшки, наповненої олією, становить 950 г. Коли з неї відлили половину олії, то її маса стала дорівнювати 550 г. Знайди масу порожньої пляшки.

